

Opdracht M6: Aardappel stempelen

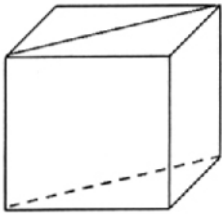
Materiaal: Aardappel, mesje, plakkaatverf.

Als je deze opdracht maakt omdat je docent dat gevraagd heeft, moet je dit antwoordvel volledig invullen en bij haar/hem inleveren.


Naam: _____

1. Snij uit een aardappel een zo groot mogelijke kubus.

Noteer hiernaast de maat van een zijde: _____ mm



2. Snij de kubus in twee stukken zoals in de tekening aangegeven.
3. Maak hieronder een stempel van de doorsnede.

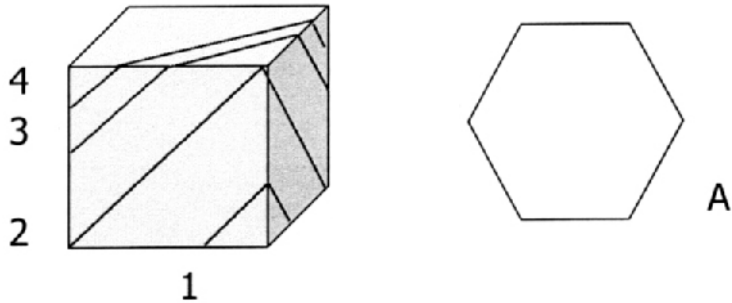


4. Welke vorm heeft de afdruk? Antwoord: _____

Opdracht M6: Aardappel stempelen

5. Pak een nieuwe aardappel en maak nog een kubus.

Je kunt een kubus ook schuin doorsnijden.
Hieronder zie je vier mogelijkheden.



6. Met welke doorsnede kun je stempel A maken?

Antwoord: _____

7. Maak van de vier doorsnedes een stempel.

Doorsnede 1	Doorsnede 2
Doorsnede 3	Doorsnede 4