

Opdracht M8: Kubussen stapelen

Materiaal:

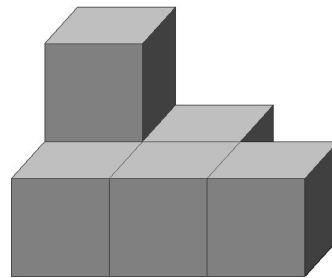
Blokken (hout, dobbelsteentjes, eventueel lego)

Als je deze opdracht maakt omdat je docent dat gevraagd heeft, moet je het antwoordvel volledig invullen en bij haar/hem inleveren.

Naam: _____

Voer de opdrachten uit.

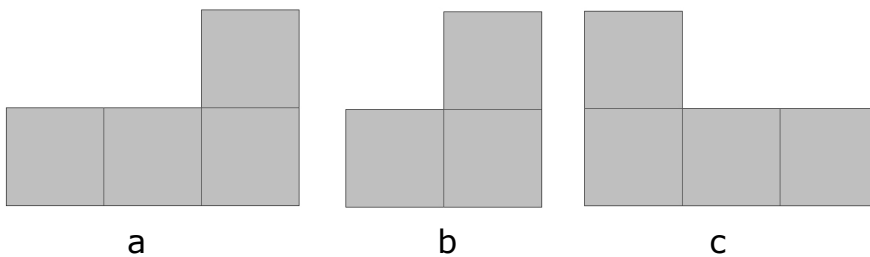
1. Bouw het kubusbouwwerk hiernaast na.



2. Hoeveel blokken heb je nodig?

Antwoord: _____

3. Welk van de aanzichten is het vooraanzicht?



Antwoord: ____

4. Teken zelf het bovenaanzicht.

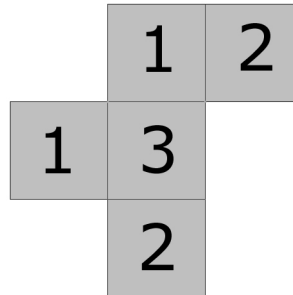


Opdracht M8: Kubussen stapelen

5 Betekent dat er 5 blokken op elkaar staan

5. Zet in het bovenaanzicht nu ook de aantallen erbij. (In het plaatje bij vraag 4)

Hiernaast zie je het bovenaanzicht
Van een ander bouwwerk.

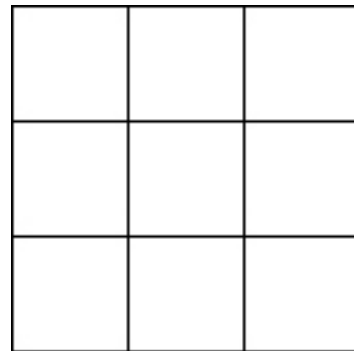
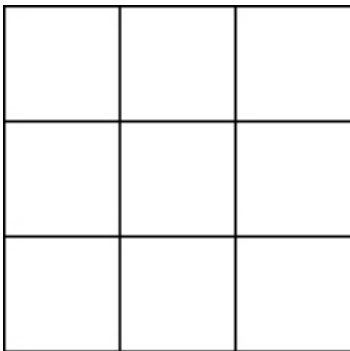


6. Hoeveel blokken telt dit bouwwerk?

Antwoord: _____

7. Bouw het bouwwerk na.

8. Teken twee aanzichten (bijvoorbeeld voor- en rechter-zijaanzicht)



Je mag zelf kiezen wat de voorkant van het bouwwerk is.