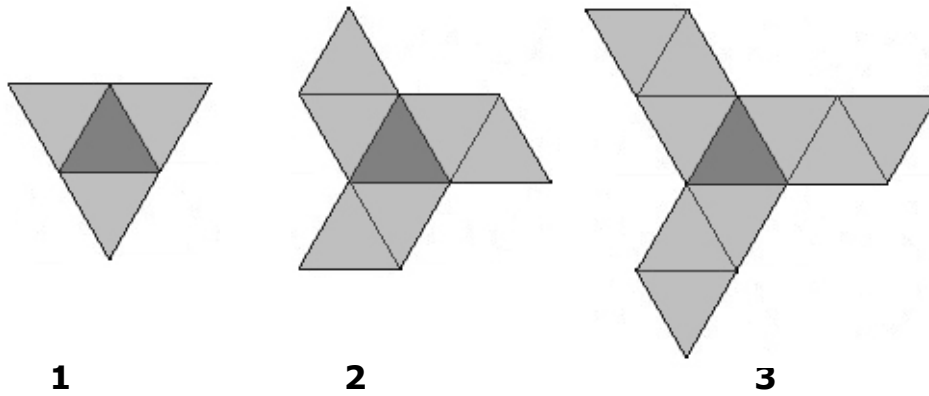


Opdracht V2: Figuren leggen 1


Materiaal: Kleurpotlood (bijvoorbeeld geel en groen).

Als je deze opdracht maakt omdat je docent dat gevraagd heeft, moet je dit antwoordvel volledig invullen en bij haar/hem inleveren.

Naam: _____



1. Maak figuur 4 en 5 volgens dit patroon.
(teken met de kleurpotloden)




2. Vul onderstaande tabel in:

nummer	1	2	3	4	5
aantal					

Opdracht V2: Figuren leggen 1

3. Teken in onderstaand assenstelsel de grafiek die bij de tabel hoort.



4. Hoeveel driehoekjes heb je nodig om van figuur 6, figuur 7 te maken.

Antwoord:

figuur 6 = _____ driehoekjes, figuur 7 = _____ driehoekjes

5. Hoe kun je dat zien in de tabel?

Antwoord: _____

